

Nom: [REDACTED]

Compte en Bonds


- ✓ 1. Cercle les objets en group de deux. 14
- ✓ 2. Combien d'objet est ce qu'il y a : _____



- ✓ 3. Complete le grille avec les numéros qui manque :

1	3	5	7	9	11	13	15
17	19	21	23	25	27	29	31
33	35	37	39	41	43	45	47

- ✓ 4. Si J'ai 5 20\$, et 10 50\$, combien d'argent est ce que j'ai?



Nom: _____

✓5. Utilise l'image pour crée une régularité en comptent par 20 ou 25

20	40	60	80	100	120	140	160	180	200	220	240	260	280	300

✓6. Cree une régularité qui inclut le numéro 50

5	10	15	20
25	30	35	40
45	50	55	60


Bravo 👍

Nom: ROYCE

Compte en Bonds

✓ 1. Cercle les objets en group de deux.

✓ 2. Combien d'objet est ce qu'il y a : 14




✓ 3. Complete le grille avec les numéros qui manque :

1	3	5	7	9	11	13	15
17	19	21	23	25	27	29	31
33	35	37	39	41	43	45	47

✓ 4. Si J'ai 5 20\$, et 10 50\$, combien d'argent est ce que j'ai?

J'ai 600



Nom: ROYCE

5. Utilise l'image pour créer une régularité en comptant par 20 ou 25

20	40	60	80	100	120	140	160	180	200	220	240	260	280	300	320

6. Crée une régularité qui inclut le numéro 50

10	20	30	40	50	60
----	----	----	----	----	----

Bravo 🎉

Nom: Anfelia

Compte en Bonds

✓ 1. Cercle les objets en group de deux.

✓ 2. Combien d'objet est ce qu'il y a : 14



✓ 3. Complete le grille avec les numéros qui manque :

1	3	5	7	9	11	13	15
17	19	21	23	25	27	29	31
33	35	37	39	41	43	45	47

4. Si J'ai 5 20\$, et 10 50\$, combien d'argent est ce que j'ai?

J'ai 200



Nom: _____

✓5. Utilise l'image pour créer une régularité en comptant par 20 ou 25

20	40	60	80	100	120	140	160	180	200	220	240	260	280	300	320

✓6. Crée une régularité qui inclut le numéro 50

10	20	30	40
50	60	70	80
90	100	<u>101</u>	120

Bravo!!

Nom: Ophelia

Compte en Bonds

1. Cercle les objets en group de deux.

2. Combien d'objet est ce qu'il y a : 14




3. Complete le grille avec les numéros qui manque :

1	3	5	7	9	11	13	15
17	19	21	23	25	27	29	31
33	35	37	39	41	43	45	47

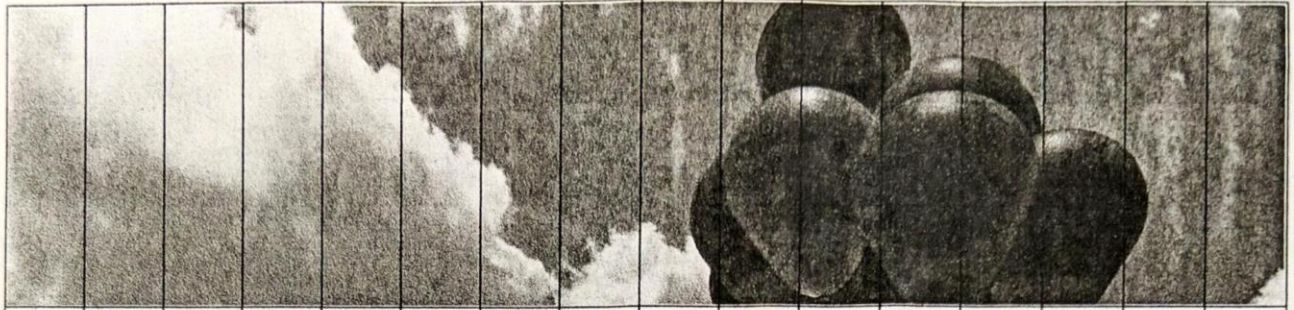
4. Si J'ai 5 20\$, et 10 50\$, combien d'argent est ce que j'ai?

J'ai 600



Nom: _____

5. Utilise l'image pour crée une régularité en comptent par 20 ou 25

														
20	40	60	80	100	120	140	160	180	200	220	240	260	280	300

6. Cree une régularité qui inclut le numéro 50

10	15	30	35	50	55	70	75	90	95	100	105	110	115
130	135	150	155	170	175	190							
195	200	205	210	215	230	235							

Nom: _____


Ju 11/12

Compte en Bonds

1. Cercle les objets en group de deux.

2. Combien d'objet est ce qu'il y a : _____

14




3. Complete le grille avec les numéros qui manque :

1	3	5	7	9	11	13	15
17	19	21	23	25	27	29	31
33	35	37	39	41	43	45	47


4. Si J'ai 5 20\$, et 10 50\$, combien d'argent est ce que j'ai?

J'ai 500



Nom: _____

5. Utilise l'image pour créer une régularité en comptant par 20 ou 25

															
20	40	60	80	100	120	140	160	180	200	220	240	260	280	300	320

6. Crée une régularité qui inclut le numéro 50

50	100	150	200	250	300	350
400	450	500	550	600	650	
700	750	800	850	900		